


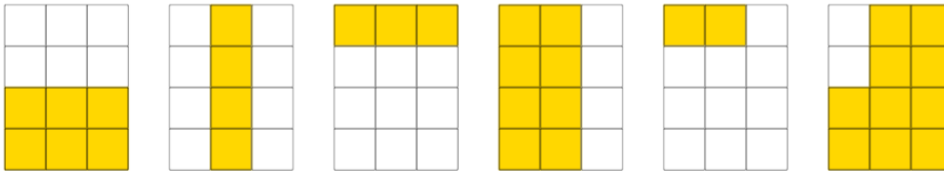
Týdenní domácí úkol do 7. 12.



číslo:


Matematika

1. Zapiš zlomkem vyznačenou část obdélníku. U každého obrázku minimálně 2 řešení.



$\frac{5}{6}$ $\frac{2}{12}$ $\frac{2}{6}$ $\frac{1}{6}$ $\frac{4}{6}$ $\frac{4}{12}$ $\frac{1}{3}$ $\frac{1}{4}$

$\frac{1}{2}$ $\frac{2}{3}$ $\frac{8}{12}$ $\frac{3}{6}$ $\frac{2}{4}$ $\frac{3}{12}$ $\frac{10}{12}$ $\frac{6}{12}$



2. Na linku uspořádej čísla od největšího k nejmenšímu. Nejprve všechna čísla zapiš zlomkem.

$\frac{3}{4}$ 0,25 $\frac{1}{2}$ $\frac{2}{2}$ 0,66 0,99 $\frac{9}{10}$

3. Zjisti zbytek při dělení čísla 1 000 čísly 11, 22, 33, ..., 99. Co jsi zjistil?

1000 : 11 = 1000 : 22 = ...

Zjistil(a) jsem, že _____

4. Adam, Boris a Cyril mají dohromady 78 Kč. Když dá Adam polovinu svých peněz Cyrilovi, budou mít všichni tři stejně. Kolik korun má Cyril?

Z:

V:

Odpověď: _____

Český jazyk



5. Doplň vhodně s/z/vz.

Raději jsem z toho žebříku _lezl. Celé prázdniny jsem _trávil u babičky. O víkendu jsme _lezli všechny hory v okolí. _přátelil jsem se s ní poměrně rychle. _těžoval si panu řediteli. Neustále mi _těžoval život tím, že se mu pořád něco nelíbilo. Doufám, že mě zítra nikdo ne_patří. Představení _končilo poměrně brzy. Letadlo právě _létlo. Když jsem se ho na to zeptal, celý _červenal. Žáci _mazali tabuli. Vraník se netrpělivě _pínal. Pavouk se _pustil na zem. Na křižovatce se _razila auta. _kusím to! _tyčit vlajku. _bírat houby. Honza si _bíral buchty do uzlíku.

6. Zařaď přídavná jména do správné části tabulky.

Mladý, jarní, cizí, matčin, kamarádův, hezký, Tomášův, zahradní, veselý, Jirkův, měděný, sestřin, barevný, kvetoucí, sloní

Přídavná jména měkká	Přídavná jména tvrdá	Přídavná jména přivlastňovací

Zjisti, kdo je autorem ilustrací



Jak se ti tento týden dařilo?

Čl –

M –

Př –

VI –



Sebehodnocení:

Vybarvi, jak vellkou část úkolu zvládáš bez dopomoci.

$\frac{1}{8}$	0,25	$\frac{3}{8}$	0,5	$\frac{5}{8}$	0,75	$\frac{7}{8}$	1
---------------	------	---------------	-----	---------------	------	---------------	---