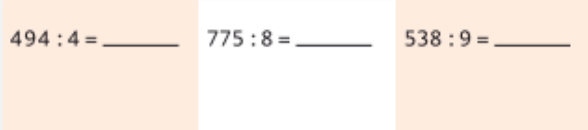
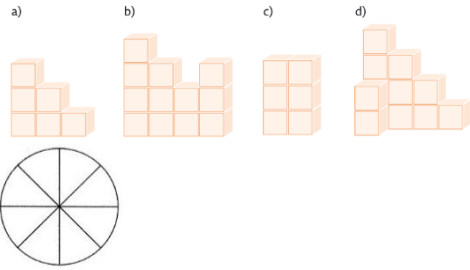

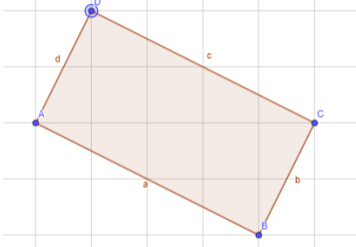



Učivo – co si mám procvičovat	Modelový příklad	Odkaz na procvičování	Jak mi to jde												
Zapiš čísla	<b>Zapiš čísla</b> Zapiš čísla. Dvacet tisíc tři sta dva _____ Sto šest tisíc dvě stě dva _____ Milion pět set pět tisíc sto třináct _____ Dva miliony pět _____	<a href="#">Velká čísla slovně (lehké) – online Psaná odpověď (umimematiku.cz)</a>													
Písemné sčítání, odčítání, násobení jednociferným číslem	<b>Vypočítej.</b> 25973-6589= 2946+3267= 5684*7=	<a href="#">Odčítání pod sebou (střední) – online Přesouvání (umimematiku.cz)</a>													
Dělení jednomístným číslem	<b>Vypočítej:</b> 	<a href="#">Písemné dělení jednociferným číslem (lehké) – online Přesouvání (umimematiku.cz)</a>													
Zlomky	1) Vybarvi 1/6 červeně, 1/2 modře a 1/3 zeleně. 2) 3/4 z 500 = _____ 1/12 z 540 = _____ 120 = 1/6 z _____ 3) Vybarvi 3/4 kruhu. 	<a href="#">Poznávání zlomků (střední) – online Přesouvání (umimematiku.cz)</a>													
Desetinná čísla	<b>Vypočítej cenu nákupu i to, kolik má prodavačka vrátit.</b> <table border="1" data-bbox="707 1070 1070 1323"> <tr><td>Lízátko .....</td><td>6,50</td></tr> <tr><td>Rohlík.....</td><td>3,20</td></tr> <tr><td>Müsli tyčinka ...</td><td>7,90</td></tr> <tr><td>Celkem: _____</td><td></td></tr> <tr><td>Placeno: 20 Kč</td><td></td></tr> <tr><td>Vrátit: _____</td><td></td></tr> </table>	Lízátko .....	6,50	Rohlík.....	3,20	Müsli tyčinka ...	7,90	Celkem: _____		Placeno: 20 Kč		Vrátit: _____		<a href="#">Sčítání a odčítání desetinných čísel (střední) – online Pexeso (umimematiku.cz)</a>	
Lízátko .....	6,50														
Rohlík.....	3,20														
Müsli tyčinka ...	7,90														
Celkem: _____															
Placeno: 20 Kč															
Vrátit: _____															
Převody jednotek	1) <b>Převeď jednotky délky a objemu:</b> 250cm = ___dm; 500cm = ___m; 2l = ___dl  2) <b>Seřaď předpony</b> jednotek vzestupně podle velikosti.  centi, deci, kilo, mili, základní jednotka	<a href="#">Převody jednotek délky (lehké) – online Rozhodovačka (umimematiku.cz)</a>													
dělitelnost	1) <b>Kolikaobdélníkové je číslo 12? Napiš příklady jako důkaz.</b>  2) <b>Zakroužkuj čísla dělitelná třemi zeleně, čísla dělitelná dvěma modře, čísla dělitelná pěti fialově.</b> <b>370, 240, 873, 315</b>	<a href="#">Factorize (nctm.org)</a>													
Bilanc	<b>Doplň tabulku:</b> <table border="1" data-bbox="528 1693 879 1823"> <tr><td>Počet Ag</td><td>1 Ag</td><td></td><td></td></tr> <tr><td>Bilandský zápis</td><td></td><td>Cg + Bg</td><td></td></tr> <tr><td>Bilandské číslo</td><td></td><td></td><td>1 000</td></tr> </table>	Počet Ag	1 Ag			Bilandský zápis		Cg + Bg		Bilandské číslo			1 000	<a href="#">Binární čísla (střední) – online Rozhodovačka (umimematiku.cz)</a>	
Počet Ag	1 Ag														
Bilandský zápis		Cg + Bg													
Bilandské číslo			1 000												
Souřadnice	Ve čtvercové síti vyznač body, dorýsuj čtverec, dopiš souřadnice bodu H. EFGH, kdy E (4 →, 0), F (6 →, 2 ↑), G (4 →, 4 ↑), H (_____); 	<a href="#">Souřadnice bodů – online Roboti (umimematiku.cz)</a>													

<b>Měření obvodu, počítání obsahu</b>	<p>Změř obvod na milimetry a vypočítej obsah obdélníku.</p> 	<a href="#">Obsah na mřížce: mix (střední) – online Přesouvání (umimematiku.cz)</a>	
<b>Kolmice</b>	<p>Narýsuj přímku <math>p</math> kolmou na přímkou <math>z</math>.</p> 	<a href="#">rýsování kolmic - YouTube</a>	
<b>rovnice</b>	<p>Krokuj, vyřeš a přepiš pomocí čísel</p> 