
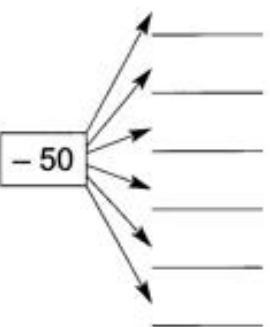
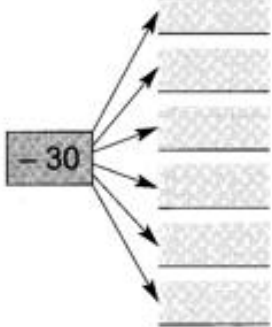




<p>3. Vypočítej:</p> $520 + 60 = \underline{\quad}$ $540 + 35 = \underline{\quad}$ $829 + 20 = \underline{\quad}$ $360 + 30 = \underline{\quad}$ $760 + 39 = \underline{\quad}$ $336 + 30 = \underline{\quad}$ $430 + 50 = \underline{\quad}$ $390 + 9 = \underline{\quad}$ $976 + 10 = \underline{\quad}$ $860 + 20 = \underline{\quad}$ $210 + 89 = \underline{\quad}$ $403 + 90 = \underline{\quad}$	<p>6.</p> $1 \cdot 0 =$ $2 \cdot 1 =$ $3 \cdot 2 =$ $4 \cdot 3 =$ $5 \cdot 4 =$												
<p>4. Řeš slovní úlohu:</p> <p>Pan Muzikant si pomocí internetu vyhledal zajímavé představení opery AIDA v koloseu v italském městě Veroně. Kdyby si koupil vstupenku přímo v koloseu, zaplatil by za sedadlo v první řadě 150 euro. Pokud si ji objedná přes internet, bude vstupenka o 20 euro levnější.  <b>Kolik euro stojí vstupenka přes internet?</b></p> 	$63 : 9 =$ $81 : 9 =$ $72 : 9 =$ $54 : 9 =$ $36 : 9 =$ $6 \cdot 5 =$ $7 \cdot 6 =$ $8 \cdot 7 =$ $9 \cdot 8 =$ $10 \cdot 9 =$												
<p>5. Vypočítej:</p> <table style="display: inline-table; vertical-align: middle;"> <tr><td style="border: 1px solid black; padding: 5px;">190</td></tr> <tr><td style="border: 1px solid black; padding: 5px;">280</td></tr> <tr><td style="border: 1px solid black; padding: 5px;">470</td></tr> <tr><td style="border: 1px solid black; padding: 5px;">560</td></tr> <tr><td style="border: 1px solid black; padding: 5px;">650</td></tr> <tr><td style="border: 1px solid black; padding: 5px;">790</td></tr> </table> <div style="display: inline-block; vertical-align: middle; margin-left: 20px;"> <div style="border: 1px solid black; padding: 5px; display: inline-block;">- 50</div>  </div> <table style="display: inline-table; vertical-align: middle; margin-left: 100px;"> <tr><td style="border: 1px solid black; padding: 5px;">596</td></tr> <tr><td style="border: 1px solid black; padding: 5px;">682</td></tr> <tr><td style="border: 1px solid black; padding: 5px;">764</td></tr> <tr><td style="border: 1px solid black; padding: 5px;">888</td></tr> <tr><td style="border: 1px solid black; padding: 5px;">931</td></tr> <tr><td style="border: 1px solid black; padding: 5px;">159</td></tr> </table> <div style="display: inline-block; vertical-align: middle; margin-left: 20px;"> <div style="border: 1px solid black; padding: 5px; display: inline-block;">- 30</div>  </div>	190	280	470	560	650	790	596	682	764	888	931	159	$64 : 8 =$ $32 : 8 =$ $24 : 8 =$ $48 : 8 =$ $56 : 8 =$ $40 : 8 =$
190													
280													
470													
560													
650													
790													
596													
682													
764													
888													
931													
159													

