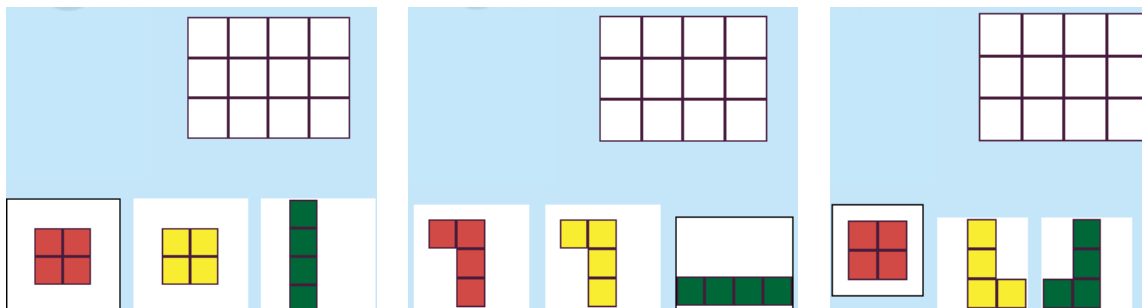


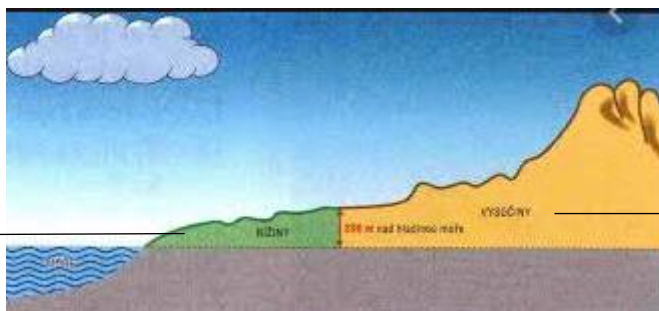
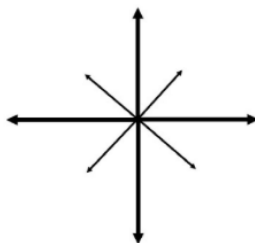
5. Vypočítej.

	8	1		2	8		4	0		8	3		1	7		4	9
+	7	2	+	9	1	+	8	5	+	6	4	+	9	1	+	6	0

6. Pokryj podlahu, použij tyto parkety.



7. Doplň směrovou růžici. Zvládneš připsat i zkratky anglických výrazů? (N, S, E, W). Na linky obrázku doplň výšku, kdy rozlišujeme nížinu a vysočinu (méně než 200m/více než 200 m).



Česká nejvyšší hora se jmenuje _____, je vysoká _____.

Dobrovolné procvičování

Algebrogramy <https://www.skolasnadhledem.cz/game/6660>

Rozlišuji cm a mm <https://www.skolasnadhledem.cz/game/8466>

Urči druhy vět

https://www.skolasnadhledem.cz/game/8300?activity_lock=87a76d52a3b9b0e7eaddb66c4577e4bf

