

1. Doplň do vět vhodná slova z nabídky.

plot – plod, tašku – tužku, let – led, dub – dup



Dědeček natřel dřevěný _____. Na rybníce se vytvořil _____.

Kaštan je _____ jírovce. Vezmi _____ za obě ucha.

Přejeme vám šťastný _____! Za dveřmi se ozvalo dupy _____.

Ořež si _____. Dřevorubec porazil statný _____.

2. Slova s doplněnými písmeny napiš.

Ve všech případech je možno utvořit nejméně dvě slova s různými souhláskami na konci.

b, p, d, t, d', t', v, f, z, s, ž, š, h, ch

me _____

pá _____

hrá _____

ple _____

le _____

su _____

du _____

je _____

lo _____

ko _____

hro _____

chlé _____

Dobrovolné procvičování:


Doplňuji písmena i, í, y, ý, u, ú, ů <https://www.skolasnadhledem.cz/game/6780?query=566%20009>Polovina, čtvrtina tyče <https://www.skolasnadhledem.cz/game/6676>Násobilkové čtverce s neposedy https://www.matika.in/cs/test.php?g_idt=6324c4966aff0



3. DOPLŇ ŘADU ČÍSEL: 0, 7, 14,, 70

HNĚDOU barvou postupně spoj násobky čísla 6.

Postupuj vždy k nejbližšímu vyššímu číslu od 0 po číslo 36.

ŽLUTOU barvou spoj podobně násobky 7. Obrázek dokresli.



Vypočítáš do 2 minut?  

- | | | | | | |
|---------|---------|---------|---------|---------|---------|
| 7 . 4 = | 6 . 8 = | 7 . 6 = | 9 . 6 = | 7 . 8 = | 9 . 7 = |
| 4 . 7 = | 8 . 6 = | 6 . 7 = | 6 . 9 = | 8 . 7 = | 7 . 9 = |

Vypočítáš do 1 min?   

- | | | | |
|---------|---------|----------|----------|
| 3 . 4 = | 3 . 3 = | 10 . 1 = | 0 . 5 = |
| 2 . 8 = | 4 . 4 = | 3 . 10 = | 3 . 0 = |
| 5 . 6 = | 2 . 2 = | 2 . 1 = | 1 . 0 = |
| 7 . 3 = | 5 . 5 = | 10 . 2 = | 10 . 0 = |
| 2 . 4 = | 1 . 1 = | 4 . 10 = | 0 . 4 = |