

1. Vypočítej.

$$\begin{array}{r} 3467 \\ 2310 \\ \hline \end{array} \quad \begin{array}{r} 1439 \\ - 1329 \\ \hline \end{array}$$

$$3 \cdot 7 - 15 = ___$$

$$3 \cdot (15 - 7) = ___$$



















$$9 \cdot 11 + 63 : 7 = ___$$

$$236 - 100 \cdot 2 = ___$$

$$3 \cdot 3 \cdot 3 - 25 = ___$$

$$2 \cdot 6 : 3 \cdot 4 = ___$$

2. Vrať neposedy zpět do rovností.

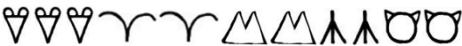





- a)  +  =  1 1 2 9
- b)  -  =  1 7 8 9
- c)  +  =  1 3 4 5 6
- d)  -  =  2 2 2 2 4
- e)  •  =  2 4 6 7
- f)  :  =  3 6 6 6

3. Vypiš všechna čísla, která se po zaokrouhlení na desítky budou rovnat 40.



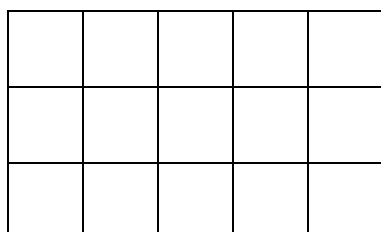
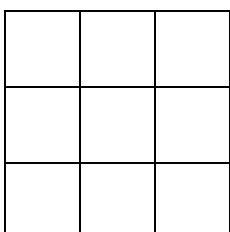
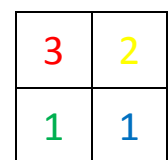
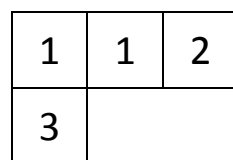
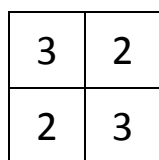
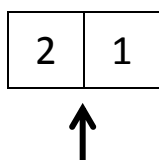
4. Vypiš všechna čísla, která se po zaokrouhlení na desítky budou rovnat 60.

5. Kolik čísel se bude po zaokrouhlení na desítky rovnat 30?

6. Zjisti, které zvířátko se skrývá za maskou. Za stejnými maskami jsou stejná zvířátka.

 = 
 = 
 = 

7. Zakresli pohled zepředu čtyř plánek staveb. Šipka ukazuje pohled zepředu. Kostky jsou k zapůjčení u pana učitele. Pokud si troufneš, poslední stavbu zkus zakreslit pastelkami.



8. Doplň i/y, í/ý ve výrazech.

v__sadbář	v__trvalostní běh	vys__paný koš
pes v__je	v__heň	V__žlovka
zasít v__kev	dlouho neus__nal	v__dej obědů
s__lný provaz	silný v__chr	rozlehlá s__pka
ovocná žv__kačka	pos__pat cukrem	zavřít v__ko
v__voj člověka	vys__paný koš	velká v__hoda
okrasné dřev__ny	nové s__tko	cv__čební úbor

9. Vybarvi ta políčka, která odpovídají na otázku a jsou ve správném tvaru. Do posledního políčka napiš číslo příslušného pádu.

Kdo sedí v řadě u dveří?	David	Dominiku	Jasmíně	Jirkovi	Tomáš	pád:
Čím píšu nebo kreslím?	tužka	perem	fixou	propisce	patelkách	pád:
Koho nebo co můžu vidět v jídelně?	tác	tácu	vidlička	kuchařku	učitele	pád:

10. Napiš větu jednoduchou, která má přesně pět slov. Červeně vyznač podstatné jméno v prvním pádě.

11. Napiš vyjmenovaná slova, která se vyskytují před a za slovem.

	→ vysoký →	
	→ zvykat →	
	→ vydra →	
	→ výheň →	

	→ povyk →	
	→ výt →	
	→ žvýkat →	
	→ výr →	

12. Napiš podstatné jméno rodu ženského v jednotném čísle a ve čtvrtém pádě, pokud ti úkol přišel jednoduchý.

Napiš podstatné jméno rodu mužského životního v jednotném čísle, pokud ti úkol přišel přiměřeně složitý.

Napiš podstatné jméno středního rodu v množném čísle, pokud ti úkol přišel příliš složitý.

