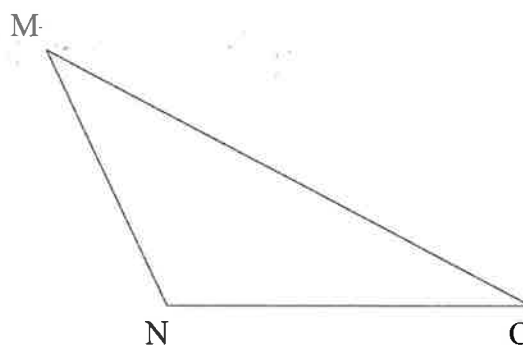
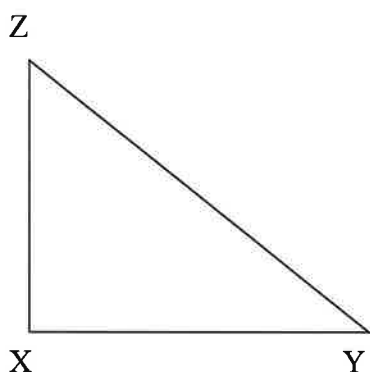
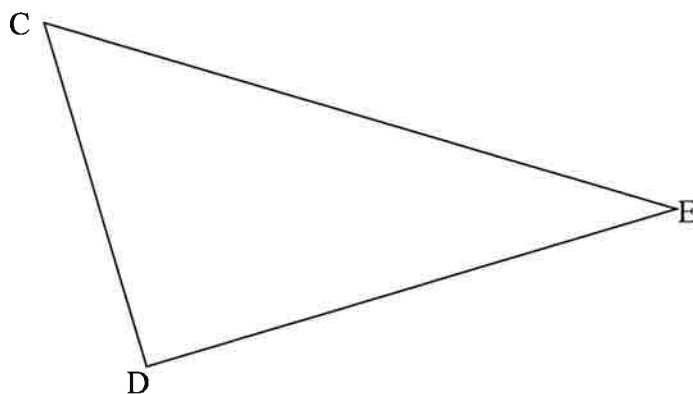
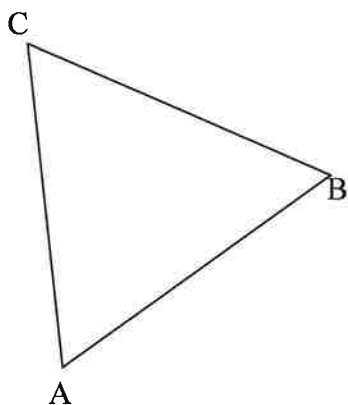


Cvičení 7: V daných trojúhelnících sestroj těžnice trojúhelníka.



Cvičení 8: Narýsuj dané trojúhelníky ABC a sestroj v_a , v_b , v_c

a) $a = 5 \text{ cm}$, $b = 6 \text{ cm}$, $c = 7,2 \text{ cm}$

b) $a = 6 \text{ cm}$, $\beta = 73^\circ$, $c = 74 \text{ mm}$

Cvičení 9: Narýsuj dané trojúhelníky ABC, je-li

a) $a = b = 60 \text{ mm}$, $c = 4,2 \text{ cm}$ a sestroj t_a

b) $a = 3,9 \text{ cm}$, $b = 6,2 \text{ cm}$, $\gamma = 130^\circ$ a sestroj t_c .