

1) Které nacionalistické strany představovaly v Československu za tzv. První republiky největší nebezpečí demokracie a celistvosti státu? Skrývají se pod zkratkami? Pojmenuješ alespoň jednoho z jejich vedoucích představitelů?

SdP

HSLS.....




2) Která událost odehrávající v cizině měla velký vliv na existenci Československa v souvislosti s jeho hranicemi? Poznáš událost podle obrázku a osobností na něm – kdo se zúčastnil jednání? O co šlo? Kdy k události, o které se také říká „O nás, bez nás!“ došlo (rok)?

a) 1929

b) 1935

c) 1938

d) 1939



.....

3) Která událost z československého domácího odboje patří mezi nejznámější? Podle obrázků o události z května 1942 napiš základní informace.



.....

4) Který přístav bránili v severní Africe (dnešní Libye) českoslovenští vojáci za 2.světové války? Velel jim Karel Klapálek = Čs. pěší prapor 11 - Východní?

a) Oran

b) Tobruk

c) Alexandria

d) Dakar

5) Kde a které jednotky Čechů a Slováků dále za 2. sv. války vznikly a bojovaly (roky 1940 a 1943)?



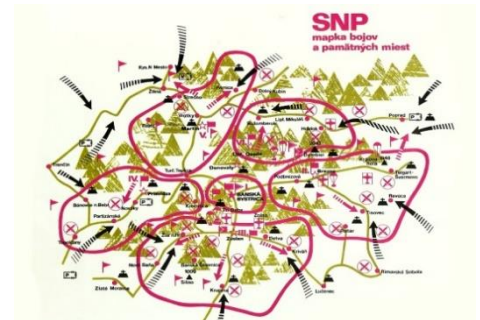
.....

2. světová válka = ověření znalostí

1) Uveďte, jak souvisí s koncem 2. světové války místo **Dukelský průsmyk**.



2) Poznej na obrázku událost z konce 2. světové války. Napiš, co se odehrálo.



3) Podle údajů označ událost z roku 1944:

Vlčí doupě – operace Valkýra – sebevražda Rommela



4) Vysvětli zkratku **ROA** v souvislosti s **pražským květnovým povstáním** a napiš ještě 1 důležitý údaj.

5) Uveď názvy nových zbraní použitých ve 2. světové válce.



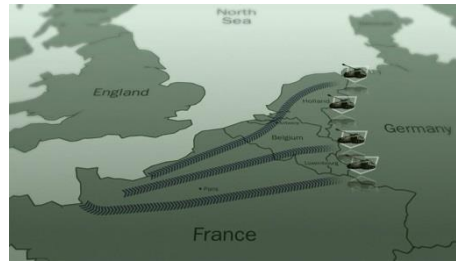
6) Kdy přesně skončila 2. světová válka v Evropě?

2. světová válka = ověření znalostí

1) Uveďte, jak souvisí s koncem 2. světové války místo Milín- Slivice.



2) Poznej na obrázku událost z roku 1945 ve 2. světové válce. Popiš, co se odehrálo a jaký byl výsledek (konference nebo protiofenzíva).



3) Podle údajů označ událost z roku 1944:

Utah a Omaha – operace Overlord – Eisenhower



4) Vysvětli zkratku **SNP** v souvislosti s **osvobozením Československa** a napiš ještě 1 důležitý údaj.

5) Co je z 2. světové války zachyceno na obrázku a napiš alespoň 2 názvy míst, kde se tyto stavby nacházely.



6) Kdy přesně skončila 2. světová válka ve světě?

