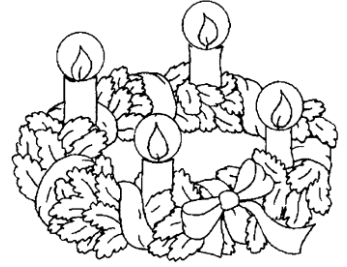


Jméno: _____



3. týdenní úkol

1. Seřad' názvy ptáků podle abecedy.

kos, jiříčka, čáp, holub, vrabec, dudek, špaček

2. Doplň slovo významem nadřazené následujícím skupinám.

- * Brno, Praha, Ostrava, Plzeň
- * přechod pro chodce, dej přednost v jízdě, zákaz zastavení
- * fotbal, plavání, košíková, tenis
- * parník, pramice, plachetnice, kajak
- * most, hrad, chrám, věž

3. Doplň i, í/ y, ý:

Sn__h spadl ze stře__ch__. H__nek lež__ doma s chř__pkou. J__me často ovoce,
chrán__me se tak před r__mou a nachlazen__m. Nemluv př__ j__dle,
ať t__ nezaskoč__ . V kuch__n__ jsou různé druh__ kořen__ .
Pekla vdolk__ z bílé mouk__, sypala je pern__kem.

4. Opiš dvě věty psacím písmem:

Z dálky jsme slyšeli



Přečetl jsem už dvě



Při hře používáme hrací



Z dálky jsme viděli jen



5. Vypočítej:

$20 + 30 = \square$

$50 - 40 = \square$

$22 + 22 = \square$

$28 + 20 = \square$

$50 - 25 = \square$

$30 + \square = 50$

$26 + 23 = \square$

$50 - 32 = \square$

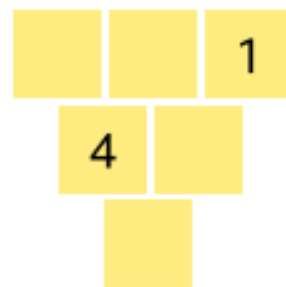
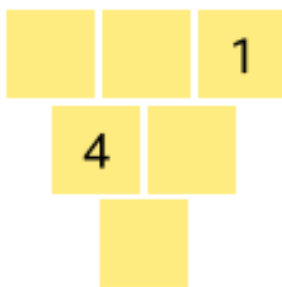
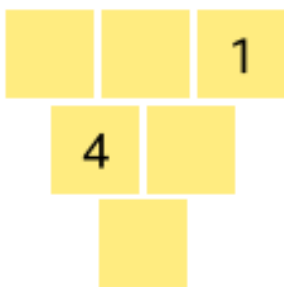
$\square + 20 = 49$

$9 + 41 = \square$

$48 - 20 = \square$

$13 + \square = 20$

6. Najdi různá řešení:



7. Vyřeš výstaviště:

		8
		1

			6
		9	
	1		