







ČJ 	Slabikář do str. 78 Bezpečně čtu slova a věty s CH. Řeším křížovku.	
PSANÍ 	Písanka do str. 5 Píšu psacím písmem v, y. Při psaní rozlišuji tiskací a psací písmo.	
M 	Matematika do str. 88 Zapisuji krokování na schodech. Rozlišuji stavby z krychlí podle počtu poschodí.	
SKN 	Prvouka do str. 67 Pojmenuji části svého těla.	
AJ 	Řeknu, jaké je počasí. Napočítám do 20.	

1. Je tu chyba?

Želva velmi rychle plave.


Moucha má šest chapadel.

Velbloud pochoduje pouští.

Slon má dlouhý chobot.

Liška je chytrá a lstivá.

Chobotnice chytá ryby na udici.



ANO NE

ANO NE

ANO NE

ANO NE

ANO NE

ANO NE

2. Piš jména, která začínají daným písmenem. (tiskacím písmem)

B _____

J _____

A _____


P _____

T _____

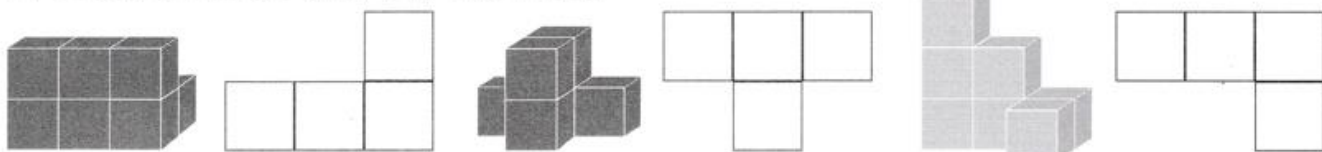
M _____

3. Nakresli přesný obrázek podle říkanky.

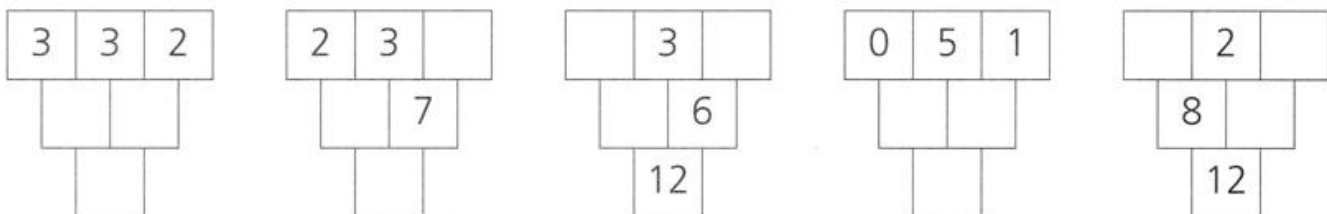
Stojí, stojí domeček,
v tom domečku stoleček,
na stolečku mistička,
v té mističce vodička,
ve vodičce rybička.



VYTVORŤ STAVBU A ZAPIŠ JEJÍ PLÁN



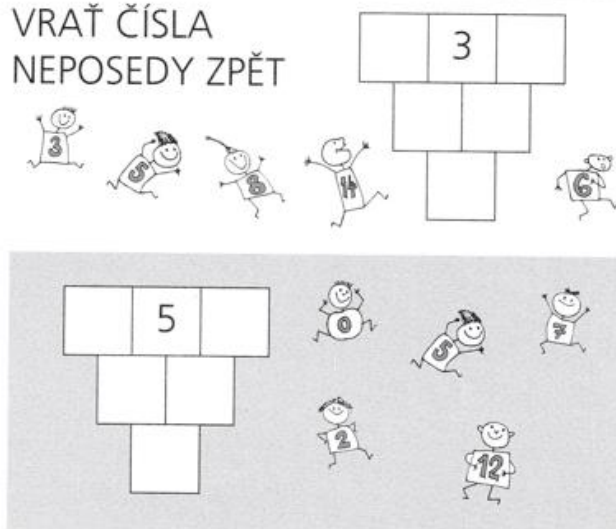
DOPLŇ ČÍSLA



VYBER A DOPLŇ <, >, =

$3 + 8$	<input type="text"/>	12	11	<input type="text"/>	$4 + 7$
$9 - 3$	<input type="text"/>	6	8	<input type="text"/>	$5 + 4$
$13 - 2$	<input type="text"/>	10	8	<input type="text"/>	$12 - 2$
$5 + 7$	<input type="text"/>	11	4	<input type="text"/>	$10 - 6$
$3 + 10$	<input type="text"/>	13	0	<input type="text"/>	$11 - 11$
$5 - 5$	<input type="text"/>	1	7	<input type="text"/>	$2 + 5$
$10 - 4$	<input type="text"/>	5	6	<input type="text"/>	$4 + 8$

VRAŤ ČÍSLA NEPOSEDY ZPĚT



- Kam dojdeme? <https://www.skolasnadhledem.cz/game/2407>
- Třídění čísel <https://www.skolasnadhledem.cz/game/1460>
- Popis lidského těla <https://www.skolasnadhledem.cz/game/1232>
- Počet písmen slova <https://www.skolasnadhledem.cz/game/1400?query=540%20077>

